

Esercizio 1

Calcolare il limite:

$$\lim_{x \rightarrow 0} \frac{3x + \tan x}{\sin x + \tan^2 x},$$

senza applicare la regola di De L'Hospital.

Soluzione

$$\lim_{x \rightarrow 0} \frac{3x + \tan x}{\sin x + \tan^2 x} = \frac{0}{0} = \lim_{|x| \rightarrow +\infty} \frac{3 + \frac{\tan x}{x}}{\frac{\sin x}{x} + \frac{\tan x}{x}x} = \frac{3 + 1}{1 + 1 \cdot 0} = 4,$$

Esercizio 2

Calcolare il limite:

$$\lim_{x \rightarrow \frac{\pi}{2}} \frac{2 \sin x (1 - \sin x)}{3 \cos^2 x},$$

senza applicare la regola di De L'Hospital.

Soluzione

$$\begin{aligned} \lim_{x \rightarrow \frac{\pi}{2}} \frac{2 \sin x (1 - \sin x)}{3 \cos^2 x} &= \frac{0}{0} = \lim_{x \rightarrow \frac{\pi}{2}} \frac{2 \sin x}{3} \cdot \lim_{x \rightarrow \frac{\pi}{2}} \frac{1 - \sin x}{\cos^2 x} = \frac{2}{3} \lim_{x \rightarrow \frac{\pi}{2}} \frac{1 - \sin x}{\cos^2 x}, \\ \lim_{x \rightarrow \frac{\pi}{2}} \frac{1 - \sin x}{\cos^2 x} &= \lim_{x \rightarrow \frac{\pi}{2}} \frac{1 - \sin x}{(1 - \sin x)(1 + \sin x)} = \frac{1}{2} \end{aligned}$$

Quindi:

$$\lim_{x \rightarrow \frac{\pi}{2}} \frac{2 \sin x (1 - \sin x)}{3 \cos^2 x} = \frac{1}{3}$$

Esercizio 3

Calcolare il limite:

$$\lim_{x \rightarrow 1} \frac{\ln(1 + \pi - 4 \arctan x)}{\sin(1 - x)},$$

Soluzione

Il limite si presenta nella forma indeterminata $\frac{0}{0}$:

$$\lim_{x \rightarrow 1} \frac{\ln(1 + \pi - 4 \arctan x)}{\sin(1 - x)} = \frac{0}{0}$$

Applicando la regola di De L'Hospital:

$$\begin{aligned} \lim_{x \rightarrow 1} \frac{\ln(1 + \pi - 4 \arctan x)}{\sin(1 - x)} &\stackrel{H}{=} \lim_{x \rightarrow 1} \frac{\frac{1}{1 + \pi - 4 \arctan x} \cdot (-4) \cdot \frac{1}{1 + x^2}}{\cos(1 - x)} \\ &= 4 \left(\lim_{x \rightarrow 1} \frac{1}{1 + \pi - 4 \arctan x} \right) \cdot \lim_{x \rightarrow 1} \frac{1}{(1 + x^2) \cos(1 - x)} \\ &= 4 \cdot 1 \cdot \frac{1}{2} = 2 \end{aligned}$$

Esercizio 4

Determinare le singolarità della funzione:

$$f(x) = \frac{e^{1/x} - 1}{e^{1/x} + 1}, \quad (19)$$

Soluzione

La funzione è definita in $X = \mathbb{R} - \{0\}$.

Determiniamo il limite sinistro e destro in $x_0 = 0$:

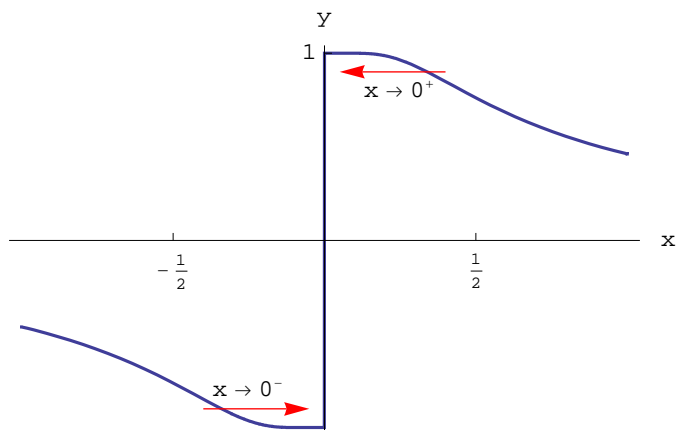
$$\begin{aligned} \lim_{x \rightarrow 0^+} f(x) &= \lim_{x \rightarrow 0^+} \frac{e^{+\infty} - 1}{e^{+\infty} + 1} = \frac{\infty}{\infty} = \lim_{x \rightarrow 0^+} \frac{1 - e^{-1/x}}{1 + e^{-1/x}} = \frac{1 - e^{-\infty}}{1 + e^{+\infty}} = \frac{1 - 0}{1 + 0} = 1 \\ \lim_{x \rightarrow 0^-} f(x) &= \lim_{x \rightarrow 0^-} \frac{e^{-\infty} - 1}{e^{-\infty} + 1} = \frac{0 - 1}{0 + 1} = -1 \end{aligned} \quad (20)$$

Si conclude che x_0 è un punto di discontinuità di prima specie della funzione $f(x)$.

Esercizio 5

Studiare il comportamento per $x \rightarrow 0$ della funzione:

$$f(x) = \sin \frac{1}{x} \quad (21)$$



Soluzione

La funzione è definita in $X = \mathbb{R} - \{0\}$, ed è manifestamente dispari: $f(-\frac{1}{x}) = -f(\frac{1}{x})$. Inoltre è limitata su tutto \mathbb{R} : $|\sin \frac{1}{x}| \leq 1$.

Gli zeri sono:

$$f(x) = 0 \iff \frac{1}{x} = k\pi \iff x = \frac{1}{\pi}, \frac{1}{2\pi}, \frac{1}{3\pi}, \dots, \frac{1}{k\pi}, \quad \text{con } k \in \mathbb{Z}$$

Inoltre:

$$f(x) = 1 \iff \frac{1}{x} = \frac{\pi}{2} + 2k\pi \iff x = \frac{2}{\pi}, \frac{1}{5\pi}, \frac{1}{9\pi}, \dots, \frac{2}{\pi + 4k\pi}, \quad \text{con } k \in \mathbb{Z}$$

$$f(x) = -1 \iff \frac{1}{x} = \frac{3\pi}{2} + 2k\pi \iff x = \frac{2}{3\pi}, \frac{2}{7\pi}, \frac{2}{11\pi}, \dots, \frac{2}{3\pi + 4k\pi}, \quad \text{con } k \in \mathbb{Z}$$

Osserviamo che i punti $x_k = \frac{1}{k\pi}$, $x'_k = \frac{2}{\pi + 4k\pi}$, $x''_k = \frac{2}{3\pi + 4k\pi}$ si addensano intorno a $x = 0$ (al crescere indefinito di k), per cui in ogni intorno di $x = 0$, la funzione assume i valori 0, -1, 1. Pertanto non può essere verificata la definizione di limite, che in questo caso è:

$$\forall \varepsilon > 0, \exists \delta_\varepsilon > 0 \mid 0 < |x| < \delta_\varepsilon \implies |f(x) - l| < \varepsilon \quad (22)$$

In altri termini, $\nexists l$ tale che lo scarto $|f(x) - l|$ può essere reso arbitrariamente piccolo. Si conclude che la funzione (21) non è regolare in $x = 0$. Per quanto riguarda il diagramma cartesiano, osserviamo che in ogni intorno di $x = 0$, la funzione compie infinite oscillazioni, per cui non è possibile completare il grafico intorno a $x = 0$, come mostrato in fig.1 .

Osserviamo infine che all'infinito la funzione è infinitesima, avendosi:

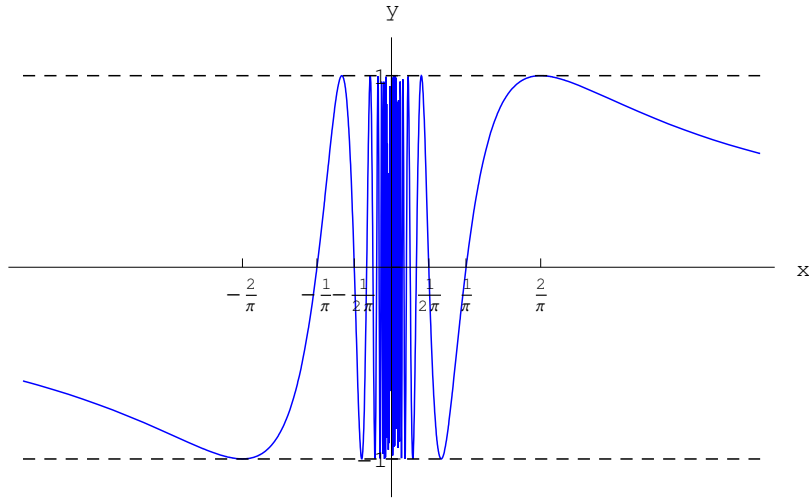


Figure 1: Grafico di $f(x) = \sin \frac{1}{x}$

$$\lim_{x \rightarrow +\infty} \sin \frac{1}{x} = \lim_{t \rightarrow 0^+} \sin t = 0^+$$

$$\lim_{x \rightarrow -\infty} \sin \frac{1}{x} = \lim_{t \rightarrow 0^-} \sin t = 0^-$$

Esercizio 6

Studiare il comportamento per $x \rightarrow 0$ della funzione:

$$f(x) = x \sin \frac{1}{x} \quad (23)$$

Soluzione

La funzione è definita in $X = \mathbb{R} - \{0\}$, ed è manifestamente pari: $f(-\frac{1}{x}) = f(\frac{1}{x})$. Inoltre :

$$\forall x \in X, \left| x \sin \frac{1}{x} \right| \leq |x| \quad (24)$$

Dalla (24) applicando la definizione di limite:

$$\lim_{x \rightarrow 0} x \sin \frac{1}{x} = 0, \quad (25)$$

per cui la funzione è convergente in $x = 0$. Sempre per la (24) si ha che il diagramma cartesiano è contenuto nella regione del piano xy :

$$\mathcal{R} = \{(x, y) \in \mathbb{R} \mid -\infty < x < +\infty, -x < y < x\}$$

Il diagramma cartesiano interseca infinite volte le rette $y = x$ e $y = -x$. Infatti:

$$f(x) = x \iff x_k = \frac{2}{\pi(1+4k)}, \forall k \in \mathbb{Z}$$

$$f(x) = -x \iff x_k = \frac{2}{\pi(3+4k)}, \forall k \in \mathbb{Z}$$

Gli zeri sono:

$$f(x) = 0 \iff \frac{1}{x} = k\pi \iff x = \frac{1}{\pi}, \frac{1}{2\pi}, \frac{1}{3\pi}, \dots, \frac{1}{k\pi}, \text{ con } k \in \mathbb{Z}$$

Come nel caso di $\sin \frac{1}{x}$ anche qui la funzione compie infinite oscillazioni intorno al punto $x = 0$, con la differenza che le oscillazioni si smorzano per $x \rightarrow 0$.

Il diagramma è riportato in fig.2 .

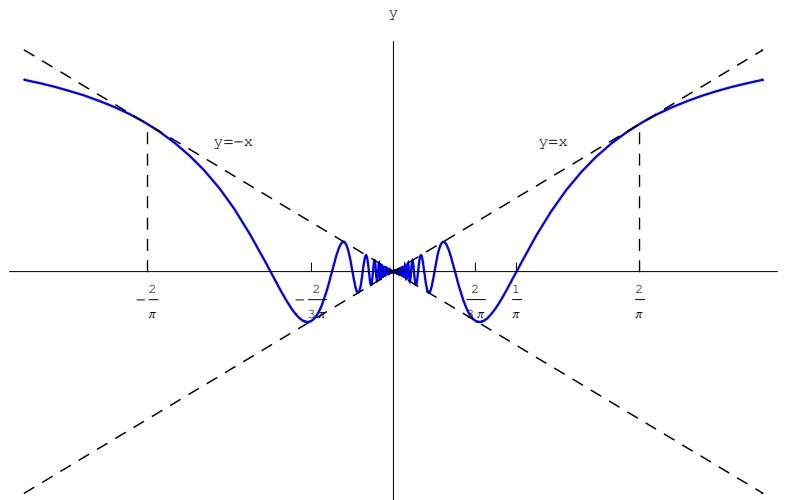


Figure 2: Diagramma cartesiano di $f(x) = x \sin \frac{1}{x}$

Osserviamo infine che all'infinito la funzione converge a 1, avendosi:

$$\lim_{x \rightarrow +\infty} x \sin \frac{1}{x} = \lim_{t \rightarrow 0^+} \frac{\sin t}{t} = 1^-$$

$$\lim_{x \rightarrow -\infty} x \sin \frac{1}{x} = \lim_{t \rightarrow 0^-} \frac{\sin t}{t} = 1^-$$

Esercizio 7

Calcolare il limite:

$$\lim_{x \rightarrow 0} \frac{e^x - 1 + \ln(1-x)}{\tan x - x} \quad (26)$$

Soluzione

Il rapporto si presenta nella forma indeterminata $\frac{0}{0}$:

$$\lim_{x \rightarrow 0} \frac{e^x - 1 + \ln(1-x)}{\tan x - x} = \frac{0}{0},$$

per cui possiamo applicare la regola di De L'Hospital:

$$\lim_{x \rightarrow 0} \frac{e^x - 1 + \ln(1-x)}{\tan x - x} \stackrel{H}{=} \lim_{x \rightarrow 0} \frac{e^x + \frac{1}{1-x}}{\frac{1}{\cos^2 x} - 1} \quad (27)$$

$$= \lim_{x \rightarrow 0} \left[\frac{\cot^2 x}{1-x} \cdot \frac{e^x(1-x) - 1}{1 - \cos^2 x} \right] = 0 \cdot \infty \quad (28)$$

$$= \lim_{x \rightarrow 0} \frac{1}{1-x} \cdot \lim_{x \rightarrow 0} \frac{e^x(1-x) - 1}{\tan^2 x} \quad (29)$$

Calcoliamo a parte il secondo limite:

$$\begin{aligned} \lim_{x \rightarrow 0} \frac{e^x(1-x) - 1}{\tan^2 x} &= \frac{0}{0} \stackrel{H}{=} \lim_{x \rightarrow 0} \frac{e^x(1-x) - e^x}{2 \tan x \cdot \frac{1}{\cos^2 x}} \\ &= -\frac{1}{2} \lim_{x \rightarrow 0} \left(\frac{x e^x}{\tan x \cos^2 x} \right) = -\frac{1}{2} \end{aligned}$$

Dall'equazione precedente si ricava:

$$\lim_{x \rightarrow 0} \frac{e^x - 1 + \ln(1-x)}{\tan x - x} = -\frac{1}{2}$$

Esercizio 8

Calcolare il limite:

$$\lim_{x \rightarrow 0} \frac{e^x - 1 + \ln(1-x)}{\tan x - x} \quad (30)$$

Soluzione

Il rapporto si presenta nella forma indeterminata $\frac{0}{0}$:

$$\lim_{x \rightarrow 0} \frac{e^x - 1 + \ln(1-x)}{\tan x - x} = \frac{0}{0},$$

per cui possiamo applicare la regola di De L'Hospital:

$$\lim_{x \rightarrow 0} \frac{e^x - 1 + \ln(1-x)}{\tan x - x} \stackrel{H}{=} \lim_{x \rightarrow 0} \frac{e^x + \frac{1}{1-x}}{\frac{1}{\cos^2 x} - 1} \quad (31)$$

$$= \lim_{x \rightarrow 0} \left[\frac{\cot^2 x}{1-x} \cdot \frac{e^x(1-x) - 1}{1 - \cos^2 x} \right] = 0 \cdot \infty \quad (32)$$

$$= \lim_{x \rightarrow 0} \frac{1}{1-x} \cdot \lim_{x \rightarrow 0} \frac{e^x(1-x) - 1}{\tan^2 x} \quad (33)$$

Calcoliamo a parte il secondo limite:

$$\begin{aligned}\lim_{x \rightarrow 0} \frac{e^x(1-x) - 1}{\tan^2 x} &= \frac{0}{0} \stackrel{H}{=} \lim_{x \rightarrow 0} \frac{e^x(1-x) - e^x}{2 \tan x \cdot \frac{1}{\cos^2 x}} \\ &= -\frac{1}{2} \lim_{x \rightarrow 0} \left(\frac{x e^x}{\tan x} \cos^2 x \right) = -\frac{1}{2}\end{aligned}$$

Dall'equazione precedente si ricava:

$$\lim_{x \rightarrow 0} \frac{e^x - 1 + \ln(1-x)}{\tan x - x} = -\frac{1}{2}$$

Esercizio 9

Calcolare il limite:

$$\lim_{x \rightarrow +\infty} \frac{\ln(1+2e^x)}{\sqrt{1+x^2}} \quad (34)$$

Soluzione

Il rapporto si presenta nella forma indeterminata $\frac{\infty}{\infty}$:

$$\lim_{x \rightarrow +\infty} \frac{\ln(1+2e^x)}{\sqrt{1+x^2}} = \frac{\infty}{\infty},$$

per cui possiamo applicare la regola di De L'Hospital:

$$\begin{aligned}\lim_{x \rightarrow +\infty} \frac{\ln(1+2e^x)}{\sqrt{1+x^2}} &\stackrel{H}{=} \lim_{x \rightarrow +\infty} \frac{\frac{2e^x}{1+2e^x}}{\frac{x}{\sqrt{1+x^2}}} \\ &= 2 \lim_{x \rightarrow +\infty} \frac{\sqrt{1+\frac{1}{x^2}}}{e^{-x} + 2} = 2 \cdot 1 \cdot \frac{1}{2} = 1\end{aligned} \quad (35)$$

Esercizio 10

Calcolare il limite:

$$\lim_{x \rightarrow 0^+} \arcsin x \cdot \ln x \quad (36)$$

Soluzione

Il prodotto si presenta nella forma indeterminata $0 \cdot \infty$:

$$\lim_{x \rightarrow 0^+} \arcsin x \cdot \ln x = 0 \cdot \infty$$

Per applicare la regola di De L'Hospital dobbiamo ricondurre la forma indeterminata $0 \cdot \infty$ a una delle due forme $\frac{0}{0}$, $\frac{\infty}{\infty}$. Ad esempio:

$$\lim_{x \rightarrow 0^+} \arcsin x \cdot \ln x = \lim_{x \rightarrow 0^+} \frac{\ln x}{(\arcsin x)^{-1}} = \frac{\infty}{\infty}$$

$$\stackrel{H}{=} \lim_{x \rightarrow 0^+} \frac{\frac{1}{x}}{- (\arcsin x)^{-2} \frac{1}{\sqrt{1-x^2}}} \quad (37)$$

$$= - \lim_{x \rightarrow 0^+} \left(\sqrt{1-x^2} \frac{\arcsin x}{x} \cdot \arcsin x \right) \quad (38)$$

$$= -1 \cdot 0 \cdot 1 = 0 \quad (39)$$

Esercizio 11

Calcolare il limite:

$$\lim_{x \rightarrow 0} \left(\frac{1}{x} - \cot x \right)$$

Soluzione

La differenza si presenta nella forma indeterminata $\infty - \infty$:

$$\lim_{x \rightarrow 0} \left(\frac{1}{x} - \cot x \right) = \infty - \infty$$

Tale forma indeterminata può essere rimossa applicando la regola di De L'Hospital, dopo aver ricondotto la forma $\infty - \infty$ alla $\frac{0}{0}$:

$$\begin{aligned} \lim_{x \rightarrow 0} \left(\frac{1}{x} - \cot x \right) &= \lim_{x \rightarrow 0} \left(\frac{1}{x} - \frac{\cos x}{\sin x} \right) = & (40) \\ &= \lim_{x \rightarrow 0} \frac{\sin x - x \cos x}{x \sin x} = \frac{0}{0} \\ &\stackrel{H}{=} \lim_{x \rightarrow 0} \frac{x \sin x}{\sin x + x \cos x} \\ &= \lim_{x \rightarrow 0} \frac{\sin x}{\frac{\sin x}{x} + \cos x} \\ &= \frac{0}{1 + 1} = 0 \end{aligned}$$

Esercizio 12

Calcolare il limite:

$$\lim_{x \rightarrow \frac{\pi}{2}^-} \frac{\ln |\tan x|}{\ln |\pi - 2x|}$$

Soluzione

La differenza si presenta nella forma indeterminata $\frac{\infty}{\infty}$:

$$\lim_{x \rightarrow \frac{\pi}{2}^-} \frac{\ln |\tan x|}{\ln |\pi - 2x|} = \frac{\infty}{\infty},$$

per cui possiamo applicare la regola di De L'Hospital:

$$\begin{aligned} & \lim_{x \rightarrow \frac{\pi}{2}^-} \frac{\ln |\tan x|}{\ln |\pi - 2x|} \\ &= \lim_{x \rightarrow \frac{\pi}{2}^-} \frac{\ln \tan x}{\ln (\pi - 2x)} \\ &\stackrel{H}{=} \lim_{x \rightarrow \frac{\pi}{2}^-} \frac{\frac{1}{\tan x} \cdot \frac{1}{\cos^2 x}}{\frac{-2}{\pi - 2x}} \\ &= \lim_{x \rightarrow \frac{\pi}{2}^-} \frac{2x - \pi}{\sin 2x} = \frac{0}{0} \end{aligned}$$

Eseguiamo il cambio di variabile $t = 2x - \pi \implies \sin 2x = \sin(t + \pi) = -\sin t$

$$\lim_{x \rightarrow \frac{\pi}{2}^-} \frac{2x - \pi}{\sin 2x} = -\lim_{t \rightarrow 0} \frac{t}{\sin t} = -1$$

Si conclude che:

$$\lim_{x \rightarrow \frac{\pi}{2}^-} \frac{\ln |\tan x|}{\ln |\pi - 2x|} = -1$$

Esercizio 13

Calcolare il limite:

$$\lim_{x \rightarrow 0} \left(\frac{1}{x^2} - \cot^2 x \right)$$

Soluzione

La differenza si presenta nella forma indeterminata $\infty - \infty$:

$$\lim_{x \rightarrow 0} \left(\frac{1}{x^2} - \cot^2 x \right) = \infty - \infty,$$

Per poter applicare la regola di De L'Hospital, riconduciamo la forma $\infty - \infty$ alla forma $\frac{0}{0}$:

$$\begin{aligned}
& \lim_{x \rightarrow 0} \left(\frac{1}{x^2} - \cot^2 x \right) \\
&= \lim_{x \rightarrow 0} \frac{1 - x^2 \cot^2 x}{x^2} = \frac{0}{0} \\
&\stackrel{H}{=} \lim_{x \rightarrow 0} \frac{-2x \cot^2 x + 2x^2 \cot x \cdot \frac{1}{\sin^2 x}}{2x} \\
&= \lim_{x \rightarrow 0} \frac{x \cos x - \sin x \cos x}{\sin^3 x} \\
&= \left(\lim_{x \rightarrow 0} \cos x \right) \cdot \lim_{x \rightarrow 0} \frac{x - \frac{1}{2} \sin 2x}{\sin^3 x} \\
&= \lim_{x \rightarrow 0} \frac{x - \frac{1}{2} \sin 2x}{\sin^3 x} \\
&\stackrel{H}{=} \lim_{x \rightarrow 0} \frac{1 - \cos 2x}{3 \sin^2 x \cos x} \\
&= \lim_{x \rightarrow 0} \frac{4 \frac{1 - \cos 2x}{(2x)^2}}{3 \frac{\sin^2 x}{x^2} \cos x} = \frac{2}{3}
\end{aligned}$$

Si conclude che:

$$\lim_{x \rightarrow 0} \left(\frac{1}{x^2} - \cot^2 x \right) = \frac{2}{3}$$

Esercizio 14

Calcolare il limite:

$$\lim_{x \rightarrow 0} \left(\frac{1}{1 - \cos x} - \frac{2}{x^2} \right)$$

Soluzione

La differenza si presenta nella forma indeterminata $\infty - \infty$:

$$\lim_{x \rightarrow 0} \left(\frac{1}{1 - \cos x} - \frac{2}{x^2} \right) = \infty - \infty,$$

Per poter applicare la regola di De L'Hospital, riconduciamo la forma $\infty - \infty$ alla forma $\frac{0}{0}$:

$$\begin{aligned}
& \lim_{x \rightarrow 0} \left(\frac{1}{1 - \cos x} - \frac{2}{x^2} \right) \\
&= \lim_{x \rightarrow 0} \frac{x^2 - 2 + 2 \cos x}{x^2 (1 - \cos x)} = \frac{0}{0} \\
&\stackrel{H}{=} 2 \lim_{x \rightarrow 0} \frac{x - \sin x}{2x - 2x \cos x + x^2 \sin x} = \frac{0}{0} \\
&\stackrel{H}{=} 2 \lim_{x \rightarrow 0} \frac{1 - \cos x}{2 - 2 \cos x + 4x \sin x + x^2 \cos x} \\
&= 2 \lim_{x \rightarrow 0} \frac{\frac{1 - \cos x}{x^2}}{2 \frac{1 - \cos x}{x^2} + 4 \frac{\sin x}{x} + \cos x} \\
&= 2 \cdot \frac{\frac{1}{2}}{2 \cdot \frac{1}{2} + 4 \cdot 1 + 1} = \frac{1}{6}
\end{aligned}$$

Si conclude che:

$$\lim_{x \rightarrow 0} \left(\frac{1}{1 - \cos x} - \frac{2}{x^2} \right) = \frac{1}{6}$$

Esercizio 15

Calcolare il limite:

$$\lim_{x \rightarrow 0} |x|^{\sin x}$$

Soluzione

Qui abbiamo la forma indeterminata 0^0 :

$$\lim_{x \rightarrow 0} |x|^{\sin x} = 0^0,$$

Scriviamo:

$$\lim_{x \rightarrow 0} |x|^{\sin x} = \lim_{x \rightarrow 0} e^{\ln |x|^{\sin x}} = e^{\lim_{x \rightarrow 0} \ln |x|^{\sin x}}$$

Quindi calcoliamo a parte il limite:

$$\lim_{x \rightarrow 0} \ln |x|^{\sin x} = \lim_{x \rightarrow 0} \sin x \ln |x|$$

Distinguiamo i casi: $x \rightarrow 0^+$, $x \rightarrow 0^-$:

$$\begin{aligned}
\lim_{x \rightarrow 0^+} \ln |x|^{\sin x} &= \lim_{x \rightarrow 0^+} \sin x \ln x = 0 \cdot \infty \\
&= \lim_{x \rightarrow 0^+} \frac{\ln x}{\frac{1}{\sin x}} \\
&\stackrel{H}{=} - \lim_{x \rightarrow 0^+} \left(\frac{\sin^2 x}{x} \frac{1}{\cos x} \right) \\
&= 0^-
\end{aligned}$$

Quindi:

$$\lim_{x \rightarrow 0^+} |x|^{\sin x} = e^{0^-} = 1^- \quad (41)$$

Per $x \rightarrow 0^-$:

$$\begin{aligned} \lim_{x \rightarrow 0^-} \ln |x|^{\sin x} &= \lim_{x \rightarrow 0^-} \sin x \ln(-x) = 0 \cdot \infty \\ &= \lim_{x \rightarrow 0^+} \frac{\ln(-x)}{\frac{1}{\sin x}} \\ &\stackrel{H}{=} - \lim_{x \rightarrow 0^+} \left(\frac{\sin^2 x}{x} \frac{1}{\cos x} \right) \\ &= 0^+ \end{aligned}$$

Quindi:

$$\lim_{x \rightarrow 0^-} |x|^{\sin x} = e^{0^+} = 1^+ \quad (42)$$

Dalle (41)-(42) segue:

$$\lim_{x \rightarrow 0} |x|^{\sin x} = 1$$

Esercizio 16

Calcolare il limite:

$$\lim_{x \rightarrow +\infty} \frac{e^{e^x}}{e^x}$$

Soluzione

Qui abbiamo la forma indeterminata $\frac{\infty}{\infty}$:

$$\lim_{x \rightarrow +\infty} \frac{e^{e^x}}{e^x} = \frac{\infty}{\infty},$$

Eseguiamo il cambio di variabile $y = e^x$, per cui:

$$\lim_{x \rightarrow +\infty} \frac{e^{e^x}}{e^x} = \lim_{y \rightarrow +\infty} \frac{e^y}{y} = +\infty$$

Alternativamente:

$$\lim_{x \rightarrow +\infty} \frac{e^{e^x}}{e^x} = \lim_{x \rightarrow +\infty} (e^{e^x-1}) = e^{+\infty} = +\infty$$

Esercizio 17

Calcolare il limite:

$$\lim_{x \rightarrow +\infty} \frac{\ln\left(1 + \frac{1}{x}\right)}{\pi - 2 \arctan x}$$

Soluzione

Qui abbiamo la forma indeterminata $\frac{0}{0}$:

$$\lim_{x \rightarrow +\infty} \frac{\ln\left(1 + \frac{1}{x}\right)}{\pi - 2 \arctan x} = \frac{0}{0},$$

Applichiamo la regola di De L'Hospital:

$$\begin{aligned} \lim_{x \rightarrow +\infty} \frac{\ln\left(1 + \frac{1}{x}\right)}{\pi - 2 \arctan x} &\stackrel{H}{=} \lim_{x \rightarrow +\infty} \frac{\frac{1}{1+x} \left(-\frac{1}{x^2}\right)}{-\frac{2}{1+x^2}} \\ &= \frac{1}{2} \lim_{x \rightarrow +\infty} \frac{1+x^2}{x(1+x^2)} = \frac{1}{2} \end{aligned}$$

Esercizio 18

Calcolare il limite:

$$\lim_{x \rightarrow 0} \frac{\sin(ax) - ax}{\sin(bx) - bx}$$

Soluzione

Qui abbiamo la forma indeterminata $\frac{0}{0}$:

$$\lim_{x \rightarrow 0} \frac{\sin(ax) - ax}{\sin(bx) - bx} = \frac{0}{0},$$

Applichiamo la regola di De L'Hospital:

$$\begin{aligned} \lim_{x \rightarrow 0} \frac{\sin(ax) - ax}{\sin(bx) - bx} &\stackrel{H}{=} \lim_{x \rightarrow 0} \frac{a \cos(ax) - a}{b \cos(bx) - b} \\ &= \frac{0}{0} \stackrel{H}{=} \lim_{x \rightarrow 0} \frac{a^2 \sin(ax)}{b^2 \sin(bx)} = \frac{a^3}{b^3} \lim_{x \rightarrow 0} \frac{\frac{\sin(ax)}{ax}}{\frac{\sin(bx)}{bx}} = \frac{a^3}{b^3} \end{aligned}$$

Quindi:

$$\lim_{x \rightarrow 0} \frac{\sin(ax) - ax}{\sin(bx) - bx} = \frac{a^3}{b^3}$$

Esercizio 19

Calcolare il limite:

$$\lim_{x \rightarrow 0} \frac{x \ln(1+x)}{1 - \cos x}$$

Soluzione

Qui abbiamo la forma indeterminata $\frac{0}{0}$:

$$\lim_{x \rightarrow 0} \frac{x \ln(1+x)}{1 - \cos x} = \frac{0}{0},$$

Dividiamo numeratore e denominatore per x^2

$$\lim_{x \rightarrow 0} \frac{x \ln(1+x)}{1 - \cos x} = \lim_{x \rightarrow 0} \frac{\frac{\ln(1+x)}{x}}{\frac{1 - \cos x}{x^2}}$$

Calcoliamo separatamente i due limiti:

$$\begin{aligned} \lim_{x \rightarrow 0} \frac{\ln(1+x)}{x} &\stackrel{H}{=} \lim_{x \rightarrow 0} \frac{1}{1+x} = 1 \\ \lim_{x \rightarrow 0} \frac{1 - \cos x}{x^2} &= \frac{1}{2}, \end{aligned}$$

donde:

$$\lim_{x \rightarrow 0} \frac{x \ln(1+x)}{1 - \cos x} = 2$$

Esercizio 20

Calcolare il limite:

$$\lim_{x \rightarrow 1} \frac{\frac{\pi}{4} - \arctan x}{\sqrt{1-x^2}}$$

Soluzione

Qui abbiamo la forma indeterminata $\frac{0}{0}$:

$$\lim_{x \rightarrow 1} \frac{\frac{\pi}{4} - \arctan x}{\sqrt{1-x^2}} = \frac{0}{0},$$

Applichiamo la regola di De L'Hospital:

$$\begin{aligned}\lim_{x \rightarrow 1} \frac{\frac{\pi}{4} - \arctan x}{\sqrt{1-x^2}} &\stackrel{H}{=} \lim_{x \rightarrow 1} \frac{\frac{1}{1+x^2}}{\frac{x}{\sqrt{1-x^2}}} \\ &= \lim_{x \rightarrow 1} \left(\frac{\sqrt{1-x^2}}{x} \cdot \frac{1}{1+x^2} \right) = 0\end{aligned}$$

Quindi:

$$\lim_{x \rightarrow 1} \frac{\frac{\pi}{4} - \arctan x}{\sqrt{1-x^2}} = 0$$